




Ważenie



Jakie produkty kupujemy na wagę,
a jakie kupujemy na sztuki?




Powiedz, jakie inne produkty
kupujemy na wagę a jakie na sztuki?

Uzupełnij tabelkę i wpisz inne produkty



produkty na wagę = ważymy	produkty na sztuki
marchew	sok



Ważymy różne rzeczy.

Zrób wagę z wieszaka.

Potrzebujesz:

1 wieszak



2 worki plastikowe





Włóż do torebek różne rzeczy i sprawdzaj, co jest cięższe



worek 1	worek 2	Co jest cięższe?
1 książka	1 zeszyt	książka

Uzupełnij zdania

..... jest cięższa od

.....

..... jest cięższa od

.....

..... jest cięższy od

.....


..... jest cięższy od

.....

Włóż do torebek różne rzeczy i sprawdzaj, co jest lżejsze



worek 1	worek 2	Co jest lżejsze?
1 długopis	1 książka	długopis



Uzupełnij zdania

..... jest lżejszy od

..... jest lżejszy od

..... jest lżejsza od

..... jest lżejsza od



Włóż do torebek różne rzeczy i sprawdzaj, co waży tyle samo.



worek 1	worek 2	Czy ważą tyle samo?
1 długopis	1 długopis	tak



Uzupełnij zdania

..... waży tyle samo co

.....

..... waży tyle samo co



.....

..... waży tyle samo co

.....

..... waży tyle samo co

Co jest cięższe? Co jest lżejsze? Co waży tyle samo?



Napisz odpowiedzi korzystając ze słówek w tabelce

.....

.....

.....

waży	cięższy	lżejszy
ważą	cięższa	lżejsza



Tropiciel słówek

1. Zrób 3 karty do słowniczka



LITERA

SŁOWO

W

OBJAŚNIENIE

.....
.....
.....

ZDJĘCIE/OBRAZEK



.....
.....

ZDANIE

.....
.....

Tropiciel słówek



LITERA

SŁOWO

C

cięższy



OBJAŚNIENIE

ZDJĘCIE/OBRAZEK

.....
.....
.....

.....
.....

ZDANIE

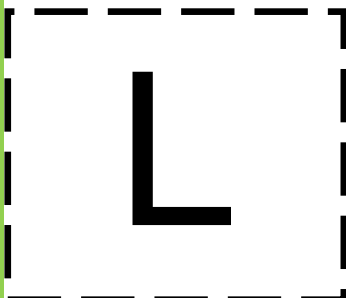
.....
.....



Tropiciel słówek



LITERA




SŁOWO



OBJAŚNIENIE

.....
.....
.....

ZDJĘCIE/OBRAZEK



.....
.....

ZDANIE

.....
.....

Tropiciel słówek



LITERA

SŁOWO



OBJAŚNIENIE

ZDJĘCIE/OBRAZEK

.....

.....

.....



.....


.....

ZDANIE

.....

.....

Jak działa język?



lekki

lżejszy



ciężki

cięższy



cięższy

cięższa

lżejszy

lżejsza

Popatrz na tabelkę. Podkreśl w każdym zdaniu, jaka jest dana rzecz.

Co zaobserwowałaś? Co zaobserwowałeś?



.....
<p>Marchew jest lżejsza od dyni.</p> <p>Książka jest lżejsza od plecaka.</p> <p>Gruszka jest lżejsza od butelki soku.</p>	<p>Pomidor jest lżejszy od dyni.</p> <p>Orzech jest lżejszy od banana.</p> <p>Ziemniak jest lżejszy od butelki wody.</p>	<p>Jabłko jest lżejsze od dyni.</p> <p>Pióro jest lżejsze od książki.</p> <p>Ciastko jest lżejsze od pizzy.</p>
<p>Marchew jest cięższa od orzecha.</p> <p>Książka jest cięższa od zeszytu.</p> <p>Butelka soku jest cięższa od pomidora.</p>	<p>Banan jest cięższy od orzecha.</p> <p>Zeszyt jest cięższy od gumki.</p> <p>Plecak jest cięższy od zeszytu.</p>	<p>Pianino jest cięższe od krzesła.</p> <p>Krzesło jest cięższe od książki.</p>



**Zaobserwuj w klasie, co według Ciebie
jest cięższe, lżejsze, waży tyle samo?
Napisz 5 zdań**

.....

.....

.....

.....

.....

.....

.....

.....

.....

.....

.....

.....

.....

.....

.....

.....

.....

.....

.....

.....

.....